

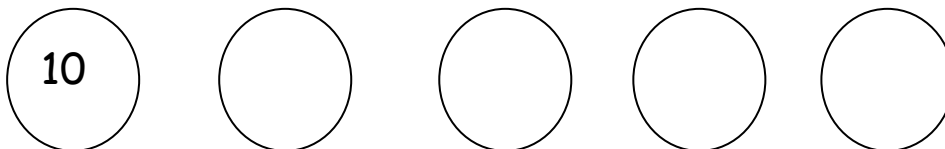
Όνομα:.....

1. Συμπληρώνω τους αριθμούς που λείπουν πριν και μετά:





___ 23 ___ ___ 33___ ___ 41 ___ ___ 19 ___

___ 16 ___ ___ 37 ___ ___ 47 ___ ___ 28 ___

2. Γράφω τους αριθμούς **ανά δέκα** και τους **μαθαίνω πολύ καλά**



3. Κάθε σακουλάκι έχει μέσα 10 καραμέλες (δηλαδή μια δεκάδα καραμέλες). Πόσες καραμέλες έχει κάθε παιδί; Συμπλήρωσε όπως στο παράδειγμα.

 <p>$10 + 10 + 6 = \square$</p>	 <p>$10 + \dots + \dots + \dots = \square$</p>
 <p>.....</p>	 <p>.....</p>

