

Όνομα:.....

1. Γράφω τις παρεούλες του 10



2. Λύνω τις προσθέσεις και τις αφαιρέσεις προσθέτοντας ή αφαιρώντας μόνο τις μονάδες.

$5 + 3 = \dots$

$7 - 1 = \dots$

$15 + 3 = \dots$

$17 - 1 = \dots$

$35 + 3 = \dots$

$37 - 1 = \dots$

$4 + 3 = \dots$

$5 - 2 = \dots$

$14 + 3 = \dots$

$15 - 2 = \dots$

$44 + 3 = \dots$

$35 - 2 = \dots$

$6 + 2 = \dots$

$6 - 2 = \dots$

$16 + 2 = \dots$

$16 - 2 = \dots$

$26 + 2 = \dots$

$46 - 2 = \dots$

3. Κάνω τις πράξεις

$13 - 2 = \dots$

$15 + 2 = \dots$

$19 - 3 = \dots$

$13 + 2 = \dots$

$18 - 2 = \dots$

$15 + 4 = \dots$




$16 - 3 = \dots$

$14 + 4 = \dots$

$14 - 2 = \dots$

$17 + 2 = \dots$

4. Προσπάθησε να μοιράσεις 8 μήλα σε τρία καλάθια με δυο διαφορετικούς τρόπους.


 + + = ...
 + + = ...