

Οι αριθμοί από το 10 μέχρι το 20 (Ο αριθμός 11)

1. Ζωγράφισε μέσα στη γυάλα 11 ψαράκια.




2. Γράψε τους αριθμούς στη σειρά από το 0 ως το 11 όπως στο παράδειγμα:

0 1 2 3 4 5 6 7 8 9 10 11


.....

3. Χρωμάτισε μόνο 11 φράουλες.





Οι αριθμοί από το 10 μέχρι το 20
(Ο αριθμός 12)

1. Βάλε τους παρακάτω αριθμούς στη σειρά από το μικρότερο στο μεγαλύτερο.



2. Γράψε δίπλα από κάθε σύνολο τον αριθμό που δείχνει πόσα είναι τα αντικείμενα.



Όνομα: