



Προβλήματα πρόσθεσης από 1 μέχρι 5

Λύνω τα προβλήματα:

1. Η Δήμητρα είχε  κοιτοπουλάκια. Της έφερε

και ο παππούς της άλλα . Πόσα κοιτοπουλάκια έχει


τήρα; Γράφω με αριθμούς και λύνω:



$$\square + \square = \square$$

2. Ο Ραφαήλ έδωσε στη Δήμητρα  γλειφιτζούρια. Της έδωσε

κι ο Σταύρος άλλα . Πόσα έχει τώρα;

$$\square + \square = \square$$

3. Στα γενέθλια της Δήμητρας, ο Ηλίας της έφερε  μπαλόνια. Η Φανή

 μπαλόνι ακόμη και η Σταματία άλλα . Πόσα μπαλόνια

μάζεψε;

$$\square + \square + \square = \square$$

Όνομα: